

Cuenta los cacharros de barro



¿Cuántas hay en total? 20

¿Cuántas hay ...?

6



¿Cuántas hay ...?

7



¿Cuántas hay ...?

7



Para escribir

¿Puedes contarnos cómo se hacen las sopas de ajo en tu casa?

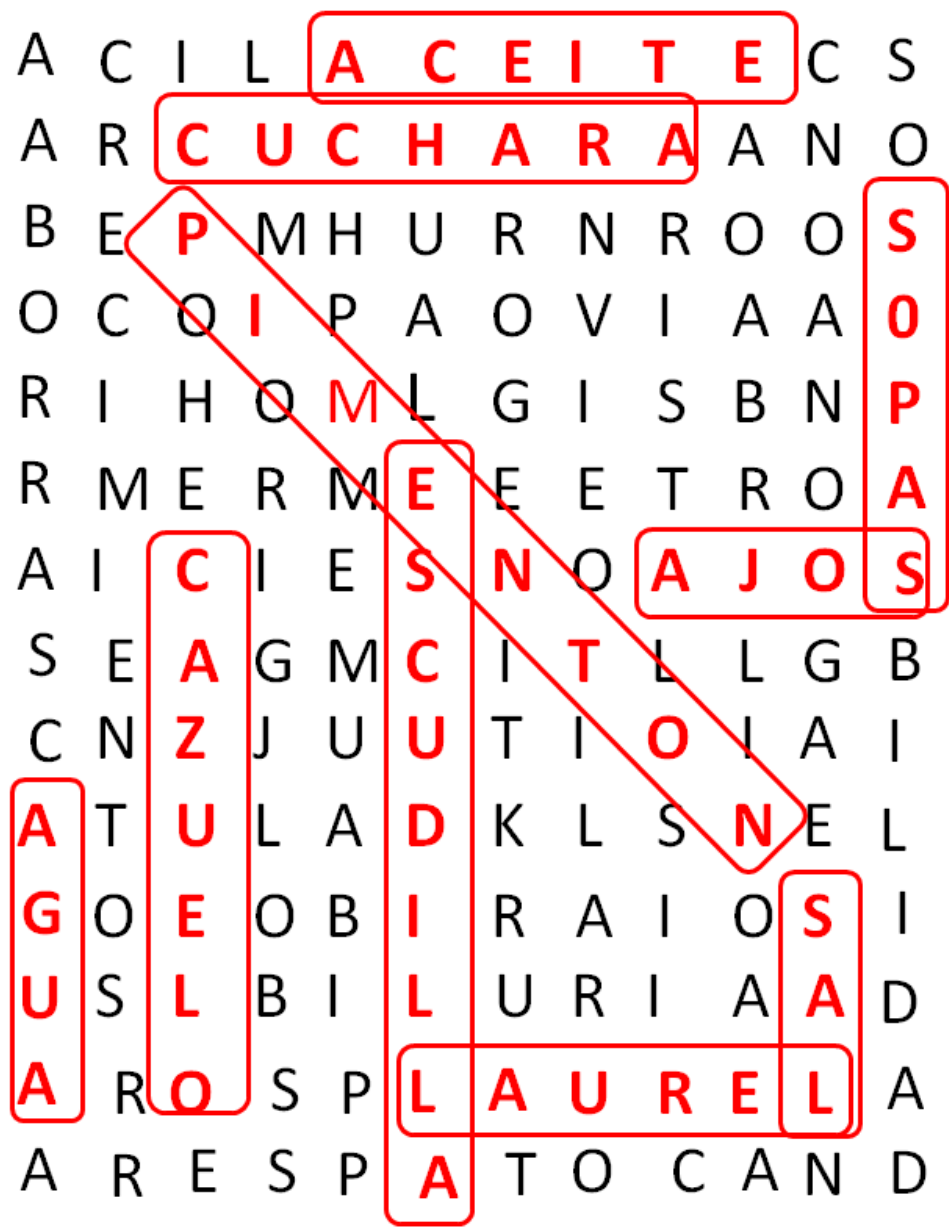


Pan de hogaza de
hurmiento del día
anterior, ajos, sal, agua.
Se le puede añadir
cebollas, torreznos o un
poco de unto. Mi madre, en
ocasiones, leche fría al
final.


Se machaca sal con los ajos en el mortero y se echa a cocer con un baso de agua. Se puede añadir un gajo de cebolla. y pimentón. Se parte pan de hogaza en finas hojas que se depositan en una cazuela de barro. Cuando hierve el caldo se añade sobre el pan y ya está.

Encuentra las palabras que se señalan en el recuadro en la sopa de letras:


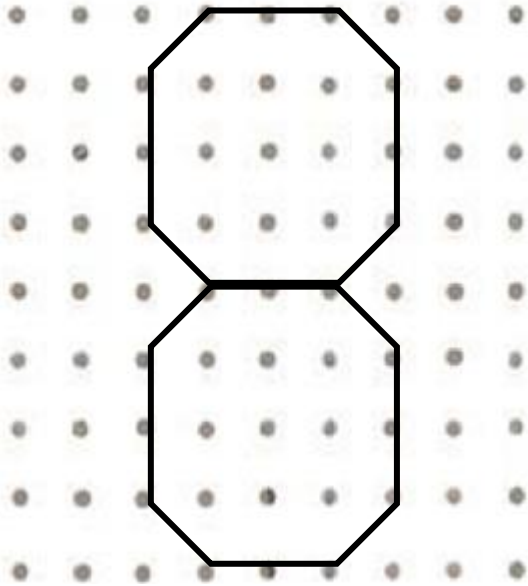
SOPAS-AJOS-ACEITE-AGUA-SAL-PIMENTÓN-
ESCUDILLA-CAZUELO-CUCHARA-LAUREL



Completa el trazado:



Dibuja sobre los puntos de la derecha una figura igual a la de la izquierda.



Realiza las operaciones en el sentido marcado por las flechas, escribe las soluciones en los círculos, hasta llegar a la letra, donde pones el resultado final.

$$55 - 5 \quad \textcircled{50} : 2 \quad \textcircled{25} \longrightarrow \times 4 \quad \textcircled{100}$$


$$- 20 \quad \textcircled{80} \longrightarrow + 16 \quad \textcircled{96} \longrightarrow - 6 \quad \textcircled{90}$$

$$\times 4 \quad \textcircled{360} \longrightarrow - 70 \quad \textcircled{290} \longrightarrow R \quad \boxed{290}$$

Marca los recuadros cuyo resultado sea 28

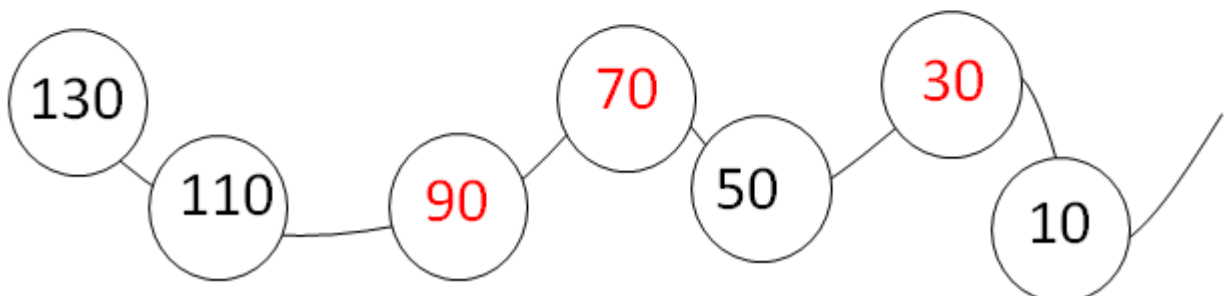
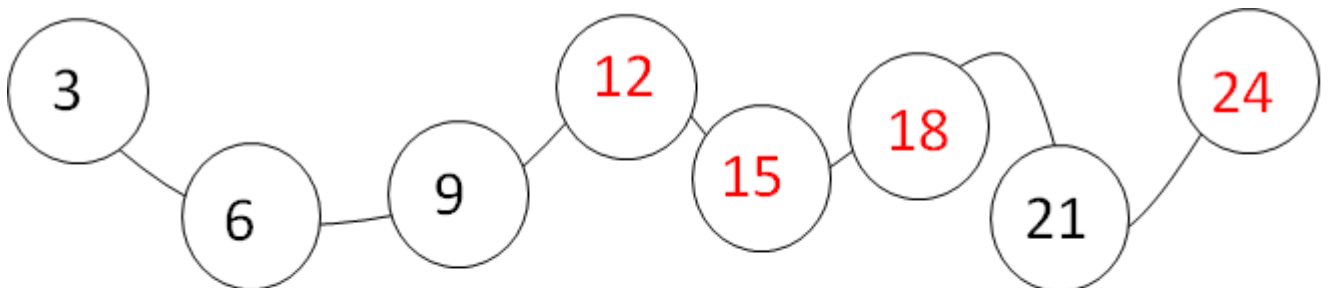
$8-4+8+26$	$3+8+7+5$	$6+8-9+14$
$7+5+8+3$	$10+9+8+1$	$4+8+8+2$
$43-3-20+8$	$14-9+8+6$	$16+4+7+1$
$43+7-30+8$	$60-40+2+6$	$8+40-10-10$
$11+5-3+9$	$25+8-3-8$	$6+14+18-10$

Rellena de un color distinto cada figura que encuentres en esta imagen. Pinta primero la que tú quieras que esté más cerca.



Una posibilidad

Completa las series.



DÍA DE LA SEMANA	NÚMERO DE DÍA	MES	AÑO	ESTACIÓN
MIÉRCOLES	10	FEBRERO	2021	INVIERNO



Escribe la palabra contraria:

Enfermo Sano

Recto Torcido

Blanco Negro

Ruidoso Silencioso

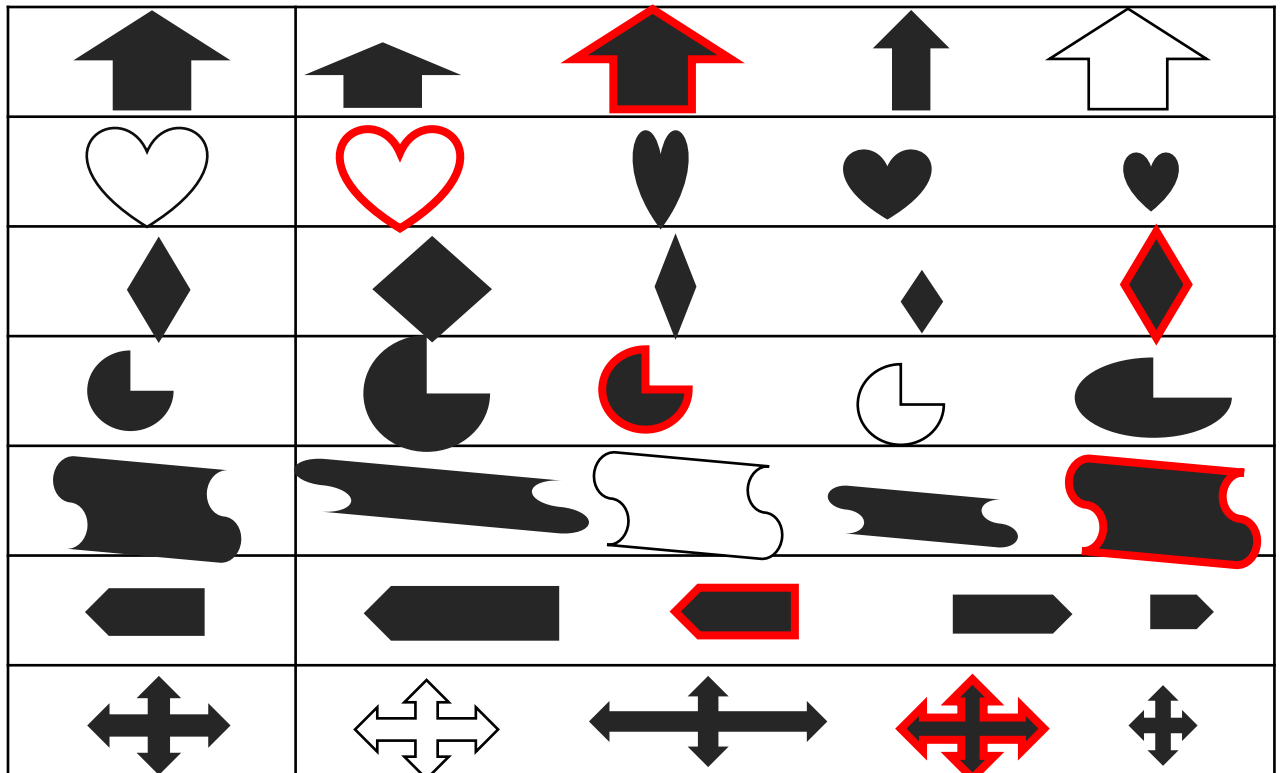
Tonto Lísto

Áspero Liso - suave


Culto Inculto

Gordo Flaco - delgado

Señala aquella figura de la derecha que es del mismo tamaño y forma al modelo de la parte izquierda:



Colorea el dibujo atendiendo al color que corresponde a cada número:



- 1 - naranja
- 2 - rojo
- 3 - amarillo
- 4 - granate
- 5 - rosa

Descubre las palabras de abajo a partir de los símbolos que les corresponden:

A	B	C	D	E	F	G	H	I	J	K	L	M	N
●	☆	♡	☀	☾	○	△	⇒	≡	⊕	▭	└	✕	⚡
Ñ	O	P	Q	R	S	T	U	V	W	X	Y	Z	
□	▣	✎	⊘	♥	😊	⬇	⬆	◀	⬅	⊗	⬆	☀	



C A T O R C E

D E

F E B R E R O

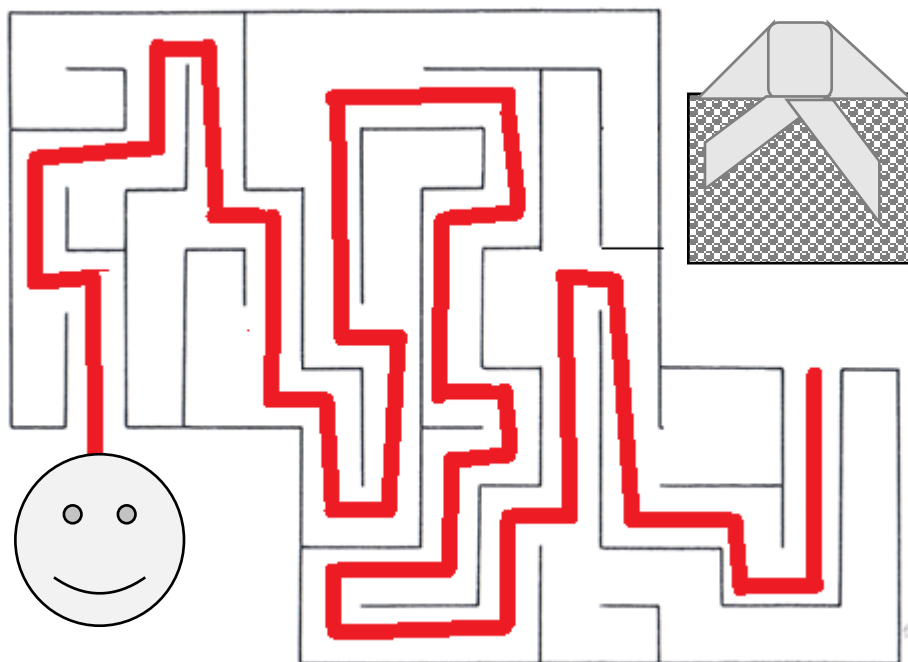


S A N



V A L E N T I N

Encuentra el recorrido que tenemos que hacer para llegar al regalo




Calcula

41	41	41	41	41
- 5	× 5	+ 12	× 7	- 2
<hr/>	<hr/>	<hr/>	<hr/>	<hr/>
36	205	53	287	39

Traza un corazón entre los dos corazones, y una flor entre las dos flores, sin tocar ninguno de los dibujos existentes.



Rodea con un círculo los animales que viven en el agua:



Ordena las palabras para formar frases:

febrero mucho Este de está mes lloviendo

Este mes de febrero está lloviendo mucho

Los empiezan de verde cubrirse montes a

Los montes empiezan a cubrirse de verde

montañas León grandes en Tenemos las robledales de

Tenemos grandes robledales en las montañas de León

